

**GUÍA MES ABRIL 2021**

**Mail institucional Docente: [tercero.carolinaflores@gmail.com](mailto:tercero.carolinaflores@gmail.com)**

<b>Docente: Carolina Flores</b>	<b>Asignatura: Historia y Geografía</b>	<b>Curso: 3º A</b>
---------------------------------	---	--------------------

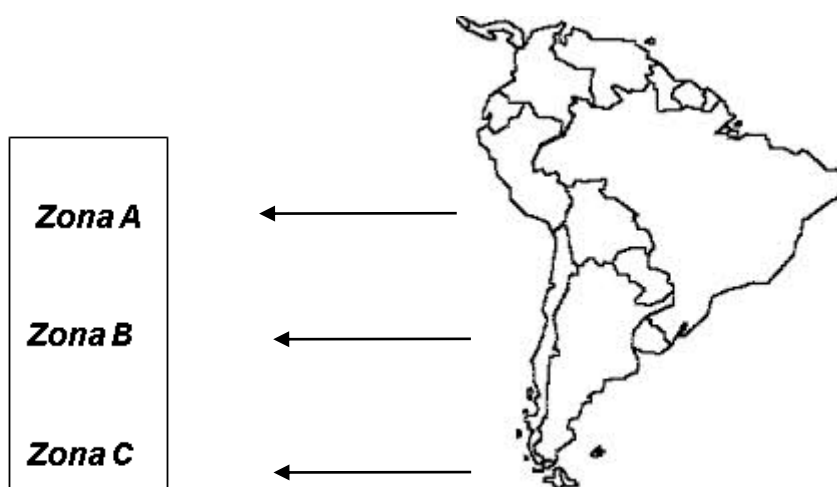
**OAs a evaluar:**  
**OA07:** Ubicar Chile, Santiago, la propia región y su capital en el globo terráqueo o en mapas, y describir la ubicación relativa de países limítrofes y de otros países de América del Sur, utilizando los puntos cardinales.

<b>Nombre Estudiante:</b>	<b>Curso: 3º A</b>	<b>Fecha: abril 2021</b>
---------------------------	--------------------	--------------------------

**Ítem I: SELECCIÓN MÚLTIPLE.**

Lee atentamente las siguientes preguntas marca la alternativa correcta con un  círculo.  
 Puntaje: 12

I.- Observa la siguiente imagen y responde las preguntas 1 y 2.



- 1. ¿En qué lugar de América del Sur se encuentra Chile?**

  - En la parte superior del continente.
  - En el centro del continente.
  - En la parte inferior del continente.
  
- 2. Si queremos ubicar la capital de Chile, ¿en qué zona estaría?**

  - Zona A y C.
  - Zona B y C.
  - Zona B y A.
  
- 3. Si me encuentro mirando la Cordillera de los Andes, ¿qué punto cardinal se encuentra detrás de mí?**

  - Sur.
  - Este.
  - Oeste.

**4. ¿Cuáles son los puntos cardinales?**

- a) Norte, Sur, Este y Oeste.
- b) Arriba, Abajo, Adelante, Atrás.
- c) Norte, Sur, Izquierda, Derecha.

**Utiliza el siguiente mapa para responder las preguntas 5 y 6**



Fuente: [www.tiwy.com](http://www.tiwy.com)

**5. ¿Cuál de los países de América del Sur es el más grande en su superficie?**

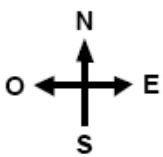
- a) Brasil.
- b) Argentina.
- c) Uruguay.

**6. Si tuvieras que escribir el nombre del país que limita al Este de Chile, ¿cuál de los siguientes nombres sería?**

- a) Ecuador.
- b) Argentina.
- c) Perú.

**II: OBSERVA EL MAPA DE AMÉRICA DEL SUR Y PINTA LOS PAÍSES CON COLORES DIFERENTES. NO OLVIDES CREAR LA SIMBOLOGÍA:**

Puntaje: 21



*Simbología:*

Chile	Argentina	Brasil	Perú
Bolivia	Ecuador	Colombia	Venezuela
Guyana	Surinam	Guayana Fr.	



Responde:

1. ¿Cuál es el país más grande de América del Sur?

---

---

---

2. ¿Qué país o países no tienen salida al mar?

---

---

---

3. ¿Qué países limitan con Chile?

---

---

---

4. ¿Qué países tienen costas en el océano Pacífico?

---

---

---

5. ¿Qué países de América del Sur no hablan español?

---

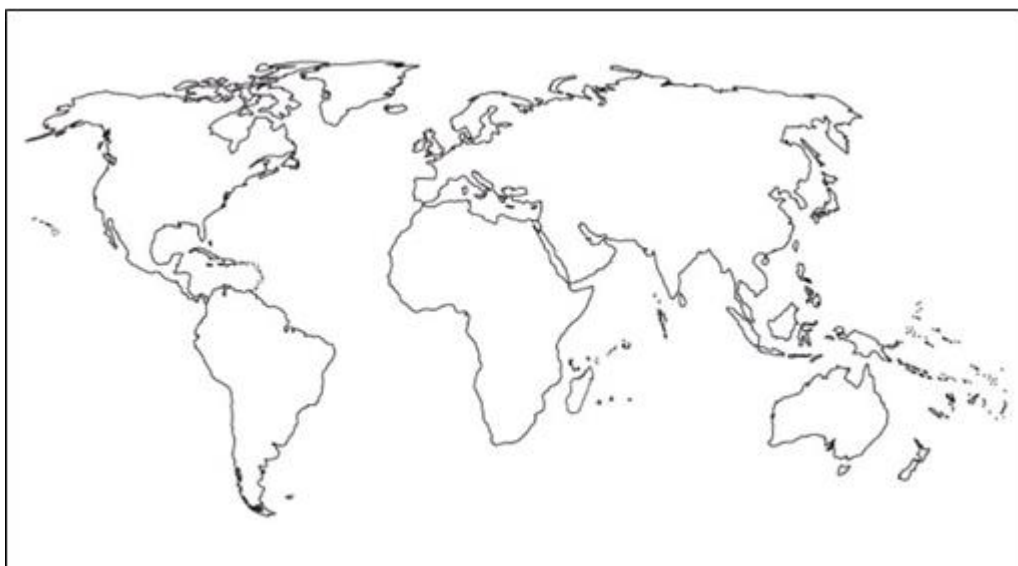
---

---

**III: COLOREA LOS MAPAS Y/O COMPLETA**

Puntaje: 22

1. Pinta de color amarillo el continente de América (6 puntos).



2. Pinta Chile en el mapa Sudamericano y anota el nombre de los países vecinos (5 puntos)



3. Escribe si es un mapa o un plano (4 puntos):



4.- Completa las oraciones (7 puntos):

- Chile se ubica en el continente\_\_\_\_\_.
- Chile se divide en \_\_\_\_\_ regiones.
- La región donde vivimos es la \_\_\_\_\_.
- La capital de Chile es \_\_\_\_\_.
- Existen \_\_\_\_\_ continentes en el mundo.
- Existen \_\_\_\_\_ océanos en el mundo.
- Chile se divide en \_\_\_\_\_ zonas naturales.