

**GUÍA MES ABRIL- 2021**

Mail institucional Docente: [segundo.sandraaguirre@gmail.com](mailto:segundo.sandraaguirre@gmail.com)

Docente: Sandra Aguirre L.	Asignatura: Matemática	Curso: 2°A
----------------------------	------------------------	------------

OAs a evaluar:

1. OA 1. Contar números del 0 al 100 de 1 en 1, de 2 en 2, de 5 en 5 y de 10 en 10, hacia adelante y hacia atrás, empezando por cualquier número menor que 100.
2. OA 4. Comparar y ordenar números del 0 al 20 de menor a mayor y/o viceversa, utilizando material concreto y/o usando software educativo.

Nombre Estudiante:	Curso: 2°A	Fecha:
--------------------	------------	--------

**RECORTA Y PEGA LA TABLA DE N° EN UNA CARTULINA Y RECURRE A ELLA LAS VECES QUE SEA NECESARIO.**

1	2	3	4	5	6	7	8	9	10
11	12	13	14	15	16	17	18	19	20
21	22	23	24	25	26	27	28	29	30
31	32	33	34	35	36	37	38	39	40
41	42	43	44	45	46	47	48	49	50
51	52	53	54	55	56	57	58	59	60
61	62	63	64	65	66	67	68	69	70
71	72	73	74	75	76	77	78	79	80
81	82	83	84	85	86	87	88	89	90
91	92	93	94	95	96	97	98	99	100

**Ítem I: SELECCIÓN MÚLTIPLE.**

**Instrucciones: Utiliza la tabla numérica y marca la alternativa correcta**

**Puntaje: 10 pts**

**1- A qué número llegas si te ubicas en el n° 3 y avanzas 7 números:**

A- 10	B- 11	C- 12
-------	-------	-------

**2- A qué número llegas si te ubicas en el n°21 y avanzas 3 números:**

A- 24	B- 25	C- 30
-------	-------	-------

3- A qué número llegas si te ubicas en el n° 28 y retrocedes 1 número:

A- 27	B- 26	C- 25
-------	-------	-------

4- A qué número llegas si te ubicas en el n° 35 y retrocedes 5 números:

A- 20	B- 31	C- 30
-------	-------	-------

5- El número mayor de esta tabla numérica es:

A- 50	B- 1	C- 100
-------	------	--------

Ítem II: Completar

Instrucciones: Escribe los números que faltan

Puntaje:

- Escribe lo que falta -


1	2		4	5	6		8	9	10
	12	13	14	15	16	17	18		20
21	22		24		26			29	30
	32	33		35		37	38	39	
41				45	46	47		49	50
	52	53	54		56		58		

Ítem III: Orden mayor - menor

Instrucciones: ordena y escribe los números de menos a mayor


Puntaje

Ordena los número de menor a mayor  
en cada barra

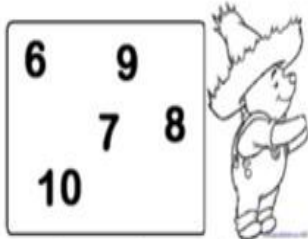


--	--	--	--	--	--	--	--


Ordena los número de menor a mayor  
en cada barra



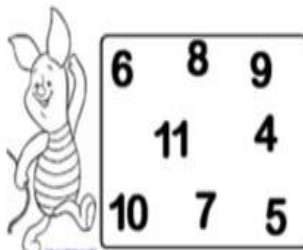
--	--	--	--	--	--	--	--




--	--	--	--	--	--	--	--



--	--	--	--	--	--	--	--



--	--	--	--	--	--	--	--



--	--	--	--	--	--	--	--