

GUÍA MES ABRIL 2021

Mail institucional Docente:
1basicohorizonte@gmail.com

Docente: Marcela
González Vargas

Asignatura: Ciencias

Curso: 1ºA

OAs a evaluar: 06

1. Identificar y describir la ubicación y la función de los sentidos, proponiendo medidas para protegerlos y para prevenir situaciones de riesgo.

Nombre Estudiante:

Curso:

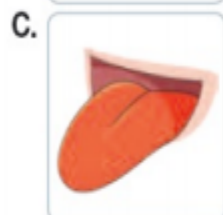
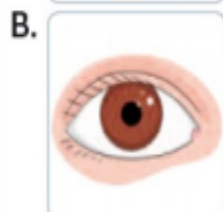
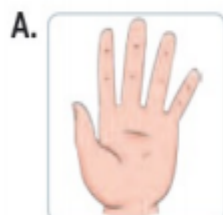
Fecha:

Ítem I:

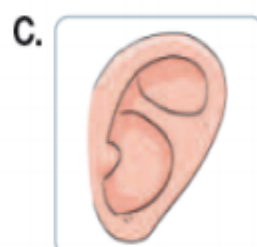
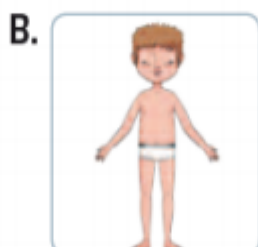
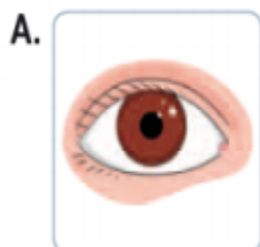
Instrucciones: Marca con una X la alternativa correcta:

Puntaje: 6

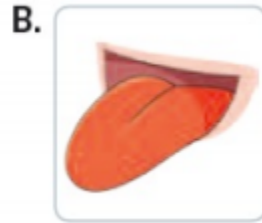
1. ¿Qué órgano de los sentidos se está empleando en la situación presentada?



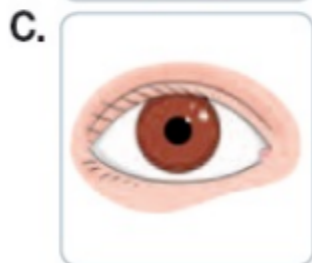
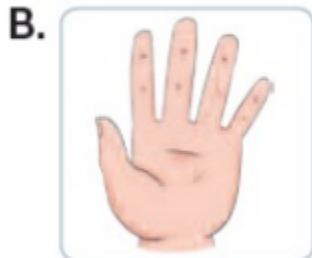
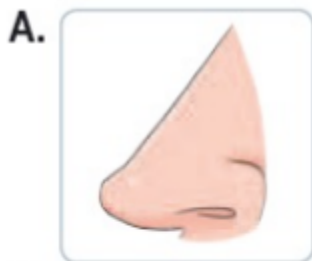
2. ¿Qué órgano de los sentidos se está empleando en la situación presentada?



3. ¿Qué órgano de los sentidos se está empleando en la situación presentada?



4. ¿Qué sentido te permite saber si te puedes intoxicar con gases venenosos?



5. ¿Cuál de las siguientes imágenes representa una acción de riesgo para los órganos de los sentidos?



Ítem II:

Instrucciones: Une el nombre de cada sentido con la parte del cuerpo que corresponde:

Puntaje: 5

Olfato



Tacto



Vista



Oído




Gusto



Ítem III:










Instrucciones: Colorea las acciones que me ayudan a cuidar la vista.

Puntaje: 2



Ítem IV

Instrucciones: Marca con una "x" el órgano de los sentidos que ocupa (puedes ocupar más de uno) Puntaje: 8

LOS SENTIDOS					
					
					
					
					

Ítem V:

Instrucciones: Marca con una X si los niños y las niñas cuidan sus sentidos.

Puntaje: 3



Ítem VI:

Instrucciones: Marca con una X los cuerpos u objetos que pueden producir sonidos agradables.

Puntaje: 4

